

## Koráliky

Janka našla na niti šesť korálikov a chcela si z nich spraviť nový náramok.



Vzala novú niť a zauzlila ju na jednom konci.



Vždy vyvliekla korálik buď z ľavého alebo pravého konca starej nite a navliekla ho na novú niť.

Ktorý z týchto náramkov si mohla Janka vytvoriť?

- A)
- B)
- C)
- D)

## Hamburgery

V rýchлом občerstvení si zákazník vyberá ingrediencie do hamburgera pomocou písmen.

V tabuľke vidíme hamburgery. Nad každým sú zapísané ingrediencie, ktoré sa v ňom nachádzajú, pričom nezáleží na poradí v akom sú ingrediencie v hamburgeri uložené.

C, F	A, B, E	B, E, F	B, C, D

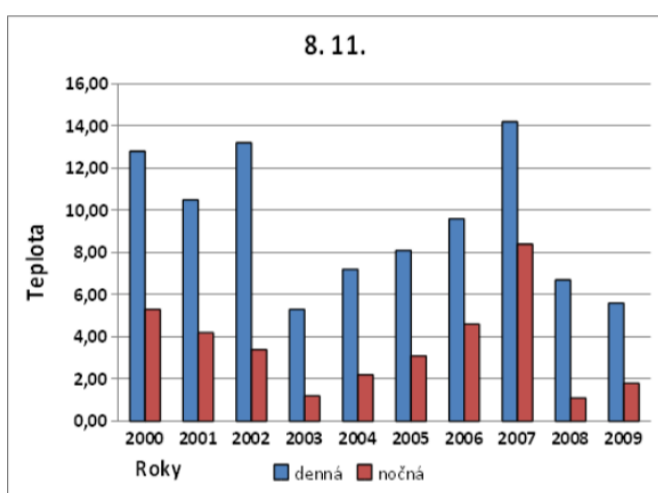
Ktorý hamburger obsahuje ingrediencie A, E, F?

- A)
- B)
- C)
- D)

## Graf

Na grafe je znázornená najvyššia denná a najnižšia nočná teplota, ktorú namerali dňa 8. 11. postupne v rokoch 2000 až 2009.

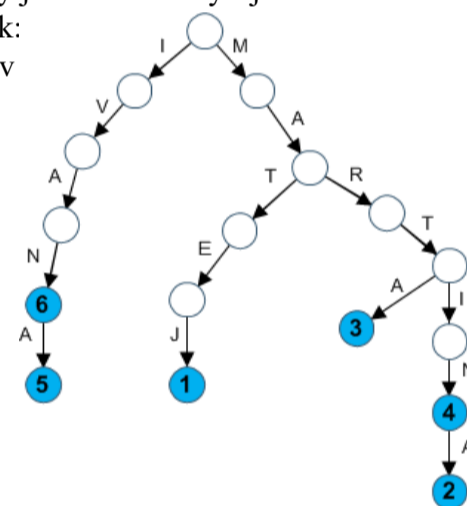
V ktorom roku bol najväčší rozdiel medzi dennou a nočnou teplotou?



## Zoznam kancelárií

Vo firme Heker s.r.o. pracuje šesť počítačových expertov. Každý má vlastnú kanceláriu, kancelárie sú očíslované od 1 do 6. Vo vchode do firmy je namiesto obyčajného zoznamu kancelárií takýto obrázok: Zobrazuje mená expertov a čísla ich kancelárií.

V ktorej kancelárii pracuje **Marta**?

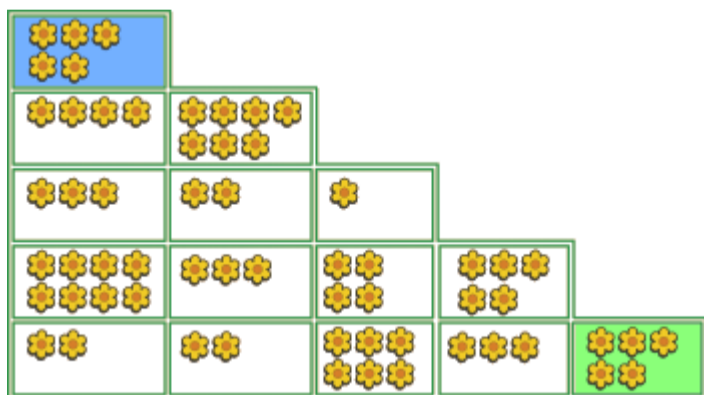


## Záhrada

V počítačovej hre je záhrada rozdelená na viacero častí. V každej z nich je niekoľko kvetov.

Začneš v časti, ktorá je vľavo hore (modrá) a ideš do časti, ktorá je vpravo dole (zelená). Pritom môžeš ísť len doprava a dole.

Najviac koľko kvetov môžeš pozberať?



## Slovo odzadu

Kamaráti písali v textovom editore slovo Perinbaba a pritom sa hrali. Jano stlačil po napísaní každého písmena kláves **Enter**, Anka kláves **Backspace** (ktorý maže znak pred kurzorom), Marienka **šípku vľavo** a Peter kláves **CapsLock**.

Keď potom kontrolovali, čo kto napísal, zistili, že jeden z nich má slovo Perinbaba napísané **odzadu**.

Kto to bol?

- A) Marienka  
B) Jano  
C) Peter  
D) Anka

# MÁJ

<https://bit.ly/2025-05-maj>



pondelok	utorok	streda	štvrtok	piatok	sobota	nedeľa
			1	2	3	4
5	6	7	8	9	10	11
12	13	14	15	16	17	18
19	20	21	22	23	24	25
26	27	28	29	30	31	